

[1] Encontre os vetores unitários \vec{T} e \vec{N} para as curvas abaixo em $t = t_0$.

(a) $\vec{r}(t) = 5 \cos t \vec{i} + 5 \sin t \vec{j}$, $t_0 = \frac{\pi}{3}$

R: $\vec{T} = \left(-\frac{\sqrt{3}}{2}, \frac{1}{2}\right)$, $\vec{N} = \left(-\frac{1}{2}, -\frac{\sqrt{3}}{2}\right)$

(b) $\vec{r}(t) = (t^2 - 1) \vec{i} + t \vec{j}$, $t_0 = 1$

R: $\vec{T} = \left(\frac{2}{\sqrt{5}}, \frac{1}{\sqrt{5}}\right)$, $\vec{N} = \left(\frac{1}{\sqrt{5}}, -\frac{2}{\sqrt{5}}\right)$

[2] O vetor binormal unitário foi definido em aula como $\vec{B}(t) = \vec{T}(t) \times \vec{N}(t)$. Argumente, sem cálculos, que ele também poderia ser definido como: $\vec{B}(t) = \frac{\vec{r}'(t) \times \vec{r}''(t)}{\|\vec{r}'(t) \times \vec{r}''(t)\|}$.

[3] Use esta última fórmula para calcular $\vec{B}(t)$ para a curva C:

$\vec{r}(t) = (\sin t - t \cos t) \vec{i} + (\cos t + t \sin t) \vec{j} + \vec{k}$

R: $\vec{B}(t) = -\vec{k}$

[4]

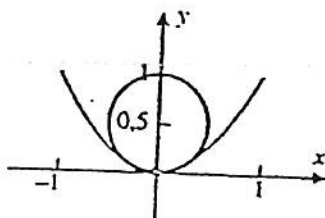
Para cada uma das curvas ao Lado, use a respectiva circunferência de curvatura para estimar o raio de curvatura ρ .

R:

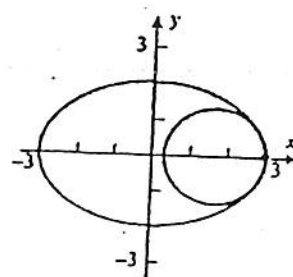
(a) $\rho = 0,5$

(b) $\rho = 1,25$

(a)



(b)



[5] Calcule a curvatura $\kappa(t)$ e faça um esboço da curva com a respectiva circunferência de curvatura:

(a) $y = \frac{1}{x}$, em $x = 1$

R: $\kappa = \frac{1}{\sqrt{2}}$

(b) $y = \frac{1}{2}x^2$, em $x = -1$

R: $\kappa = \frac{1}{2\sqrt{2}}$

(c) $y = e^x$, em $x = 0$

R: $\kappa = \frac{1}{2\sqrt{2}}$

[6] Calcule o raio de curvatura $\rho(t)$ da elipse $x(t) = 2 \cos t$, $y(t) = \sin t$, $0 \leq t \leq 2\pi$, em $t = 0$ e $t = \frac{\pi}{2}$. Esboce as circunferências de curvatura nestes pontos. R: $\rho(0) = \frac{1}{2}$, $\rho\left(\frac{\pi}{2}\right) =$

[7] Em que ponto a curva $y = e^x$ tem a máxima curvatura?

R: $t = \frac{1}{2} \ln\left(\frac{1}{2}\right)$

[8] Seja $\vec{r}(t)$ o vetor-posição de uma partícula em movimento e t o tempo. Encontre $\vec{v}(t)$, $\vec{a}(t)$ e $\|\vec{v}(t)\|$. Faça um esboço da trajetória representando $\vec{v}(t)$, e $\vec{a}(t)$ em t_0 :

(a) $\vec{r}(t) = 3 \cos t \vec{i} + 3 \sin t \vec{j}$, $t_0 = \frac{\pi}{3}$

R: $\vec{v}\left(\frac{\pi}{3}\right) = \left(-\frac{3\sqrt{3}}{2}, 3\right)$, $\vec{a}\left(\frac{\pi}{3}\right) = \left(-\frac{3}{2}, -\frac{3\sqrt{3}}{2}\right)$

(b) $\vec{r}(t) = e^t \vec{i} + e^{-t} \vec{j}$, $t_0 = 0$

R: $\vec{v}(0) = (1, -1)$, $\vec{a}(0) = (1, 1)$

(c) $\vec{r}(t) = \cosh t \vec{i} + \sinh t \vec{j}$, $t_0 = \ln 2$

R: $\vec{v}(\ln 2) = \left(\frac{3}{4}, \frac{5}{4}\right)$, $\vec{a}(\ln 2) = \left(\frac{5}{4}, \frac{3}{4}\right)$

(d) $\vec{r}(t) = \cos t \vec{i} + \sin t \vec{j} + t \vec{k}$, $t_0 = \frac{\pi}{4}$

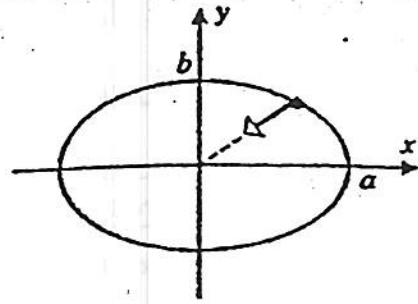
R: $\vec{v}\left(\frac{\pi}{4}\right) = \left(-\frac{\sqrt{2}}{2}, \frac{\sqrt{2}}{2}, 1\right)$, $\vec{a}\left(\frac{\pi}{4}\right) = \left(-\frac{\sqrt{2}}{2}, -\frac{\sqrt{2}}{2}, 0\right)$

[9]

Conforme o gráfico ao lado, a trajetória de uma partícula é representada na forma paramétrica por:

$$x(t) = a \cos \omega t, \quad y(t) = b \sin \omega t$$

- (a) Mostre que a aceleração $\vec{a}(t)$ está voltada em direção à origem.
 (b) Mostre que $\|\vec{a}(t)\|$ é proporcional à distância da partícula à origem.



[10] O movimento de uma partícula é descrito por $\vec{r}(t) = (t - t^2) \vec{i} - t^2 \vec{j}$. Encontre o valor mínimo para $\|\vec{v}(t)\|$ da partícula e sua localização quando tiver esta velocidade.

R: $\|\vec{v}(t)\|_{\min} = \frac{\sqrt{2}}{2}, P\left(\frac{3}{16}, -\frac{1}{16}\right)$

R: 15°

[11] Encontre o ângulo entre $\vec{v}(t)$ e $\vec{a}(t)$ para $\vec{r}(t) = t^3 \vec{i} + t^2 \vec{j}, t=1$.

[12] Onde ao longo da trajetória $\vec{r}(t) = (t^2 - 5t) \vec{i} + (2t + 1) \vec{j} + 3t^2 \vec{k}$, os vetores velocidade e aceleração são ortogonais.

R: $P\left(-\frac{19}{16}, \frac{3}{2}, \frac{3}{16}\right)$

[13] Prove que se o módulo da velocidade de uma partícula é constante, então os vetores velocidade e aceleração são perpendiculares. (Sugestão: Considere $\|\vec{v}\|^2 = \vec{v} \cdot \vec{v}$)

[14] Prove que se a aceleração de uma partícula em movimento é zero para todo t , então a partícula se move ao longo de uma reta. (Sugestão: lembre-se que $\kappa(t) = \frac{\|\vec{v} \times \vec{a}\|}{v^3}$)

[15] Calcule a componente tangencial a_T e a componente normal a_N da aceleração, em $t = t_0$, para:

(a) $\vec{r}(t) = 2 \cos t \vec{i} + 2 \sin t \vec{j}, t_0 = \frac{\pi}{3}$

(b) $\vec{r}(t) = e^{-t} \vec{i} + e^t \vec{j}, t_0 = 0$

R: $a_T = 0, a_N = \sqrt{2}$

R: $a_T = 0, a_N = 2$

(c) $\vec{r}(t) = (t^3 - 2t) \vec{i} + (t^2 - 4) \vec{j}, t_0 = 1$

(d) $\vec{r}(t) = t \vec{i} + t^2 \vec{j} + t^3 \vec{k}, t_0 = 1$

R: $a_T = \frac{22}{\sqrt{14}}, a_N = \sqrt{\frac{38}{7}}$

R: $a_T = 2\sqrt{5}, a_N = 2\sqrt{5}$

[16] Dados $\vec{v} = 2 \vec{i} + 2 \vec{j} + \vec{k}$ e $\vec{a} = \vec{i} + 2 \vec{k}$ num certo ponto. Determine a_T, a_N, \vec{T} e \vec{N} neste instante.

R: $a_T = \frac{4}{3}$

$a_N = \frac{\sqrt{29}}{3}$

$\vec{T} = \frac{1}{3}(2 \vec{i} + 2 \vec{j} + \vec{k})$

$\vec{N} = \frac{\vec{i} - 8 \vec{j} + 14 \vec{k}}{3\sqrt{29}}$

[17] Calcule a componente tangencial da aceleração dado $\|\vec{v}\| = \sqrt{3t^2 + 4}, t=2$.

R: $\frac{3}{2}$

[18] O acelerador do Laboratório Enrico Fermi é circular e possui um raio de 1 km. Ache a componente normal da aceleração de um próton movendo-se em torno do acelerador com uma velocidade de módulo constante e igual a $2,9 \times 10^5 \text{ km/s}$.

R: $8,41 \times 10^{10} \text{ km/s}^2$